

UNIVERSITE DE
NICE SOPHIA ANTIPOLIS

FACULTE DES SCIENCES

MODULE SL1V24CHC Chimie II
EPREUVE CHIMIE ORGANIQUE
DATE

Note

Nombre d'intercalaires _____

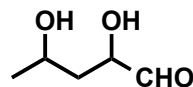
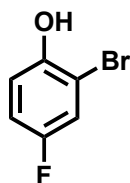
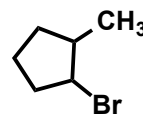
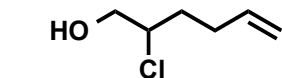
Nom : _____
Prénom : _____
Né(e) à : _____
Le : _____

Cette feuille sera cachetée par vos soins au moyen de colle, agrafes ou de ruban adhésif après avoir rabattu le triangle noirci. Afin de faciliter le décaçhetage, n'opérez de fixation qu'à l'intérieur des ellipses hachurées.

LES CALCULATRICES ET LES SUPPORTS DE COURS SONT INTERDITS – Modèle moléculaire accepté
Rappel des numéros atomiques : ${}_1\text{H}$, ${}_6\text{C}$, ${}_7\text{N}$, ${}_8\text{O}$, ${}_9\text{F}$, ${}_{11}\text{Na}$, ${}_{15}\text{P}$, ${}_{16}\text{S}$, ${}_{17}\text{Cl}$, ${}_{19}\text{K}$, ${}_{35}\text{Br}$

I. NOMENCLATURE ET ISOMERIE

I.1 Etablir le nom dans le système IUPAC des composés organiques suivants :



I.2 Lorsque cela est demandé, dessiner les structures des différents couples, et si elle existe, déterminer la relation d'isomérie (isomérie de constitution, de position, de configuration, de conformation, ..., ou aucune) qu'il y a entre les molécules de chacun des couples ci-dessous :

Couple A butan-2-one / (Z)-but-2-én-2-ol
Structures :

Relation d'isomérie :

Couple B **(2*R*,4*S*)-2,4-dibromopentane-1,5-diol / (2*S*,4*R*)-2,4-dibromopentane-1,5-diol**
Structures :

Relation d'isomérisation :

Couple C **(*E*)-penta-1,3-diène / (*Z*)-penta-1,3-diène**
Structures :

Relation d'isomérisation :

I.3 Considérons la molécule suivante :

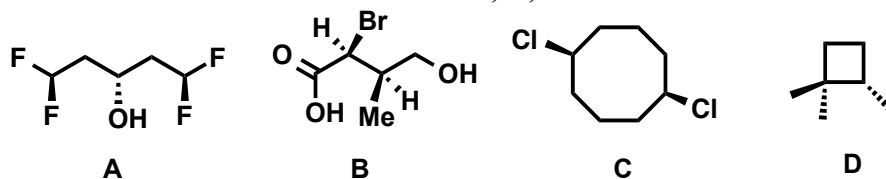


- a. Indiquer par un astérisque (*) les carbones asymétriques.
- b. Combien de stéréoisomères possède cette molécule ? Représenter-les tous selon les conventions de Cram, en spécifiant pour chaque atome de carbone asymétrique, sa configuration absolue *R* ou *S*.

- c. Parmi ces stéréoisomères, quels sont ceux qui ont un effet sur la lumière polarisée ? Justifier.

- d. Représenter la molécule suivante tout d'abord selon les conventions de Cram puis en projection de Fisher :
Acide (2*R*,3*R*)-3-chloro-2-hydroxybutanoïque

I.4 On donne les molécules suivantes numérotées A, B, C et D.



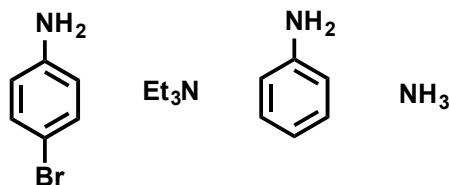
- Indiquer par un astérisque (*) pour les molécules précédentes, les carbones asymétriques.
- Indiquer pour chaque atome de carbone asymétrique, sa configuration absolue *R* ou *S* ?
- Quelles sont les molécules qui sont chirales ?

e. Représenter également la molécule B en projection de Newman selon l'axe C2-C3, dans une conformation éclipsée.

I.5 a) Au sens de Brønsted, ranger les composés suivants par ordre d'acidité croissante dans l'eau (à savoir par valeurs de pK_a décroissantes) :

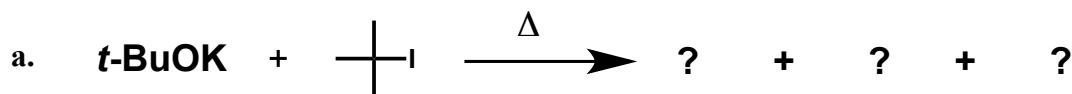
méthanol ; phénol ; acide acétique ; acide trichloroacétique

b) Au sens de Brønsted, ranger les composés suivants par ordre de basicité croissante dans l'eau (à savoir par valeurs de pK_a croissantes) :



II. LES REACTIONS EN CHIMIE ORGANIQUE

II.1 Identifier dans les équations-bilans suivantes, le substrat, le réactif et préciser le type de réaction dont il s'agit. Le cas échéant, remplacer les points d'interrogation par la structure en topologie du ou des produits obtenus.



Réponse : Substrat Réactif Type de réaction



Réponse : Substrat Réactif Type de réaction

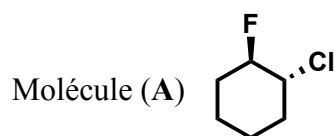


Réponse : Substrat Réactif Type de réaction

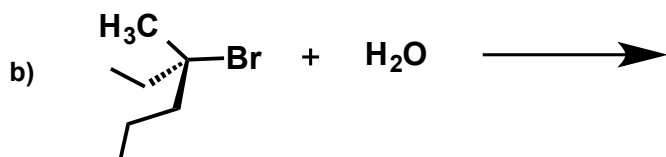
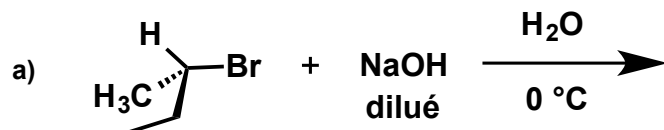
II.2 Parmi les entités chimiques suivantes, entourer celles qui sont capables d'agir comme des nucléophiles dans des réactions de substitution :



II.3 Représenter en perspective cavalière les 2 conformations chaise de la molécule représentée ci-dessous. Quelle est leur relation d'isomérisme ? Parmi ces 2 isomères, lequel est le plus stable, justifier.



Pour chacune des 2 réactions de *substitution* ci-dessous, dessiner les produits obtenus en indiquant leur stéréochimie :



Question subsidiaire (adapté du Petit Journal) :

Soit une molécule A possédant 3 carbones asymétriques.

Soit une molécule B possédant 4 carbones asymétriques.

Sachant que je sélectionne autant de molécules A que de molécules B. Je dispose au final d'un mélange de molécules possédant au total 56 carbones asymétriques.

Combien ai-je donc sélectionné de chacune des 2 molécules ?